

Name:	Datum:	
Gebirge in Europa		

Es gibt zahlreiche Mittelgebirge und Hochgebirge in Europa. Während die Mittelgebirge eine Höhe zwischen 250 bis 1500 m aufweisen, reichen die Höhen der Hochgebirge deutlich darüber hinaus. Auf der Karte unten sind die wichtigsten Gebirge Europas verzeichnet.



Nimm einen Atlas zu Hilfe.

Aufgabe: Finde die Namen der nummerierten Gebirge (1–12) heraus.

Aufgepasst! Je nach Atlas kann es vorkommen, dass anstatt einem „Überbegriff“ die Namen bestimmter Gebirgsregionen genannt werden. Beispiel: Anstatt „Skandinavisches Gebirge“ werden „Jotunheim“ und „Hardanger Vidda“ angegeben.



	Name des Gebirges		Name des Gebirges
1		7	
2		8	
3		9	
4a 4b		10	
5		11	
6		12	

Name:

Datum:



Die höchsten Berge Europas



Nimm einen Atlas zu Hilfe.

1. Finde die Namen der nummerierten Gebirge heraus (1–12).
2. Finde zu jedem Gebirge den Namen und die Höhe des höchsten Berges heraus.



	Name des Gebirges	höchster Berg	Höhe in Meter
1			
2			
3			
4a 4b			
5			
6			
7			
8			
9			
10			
11			
12			

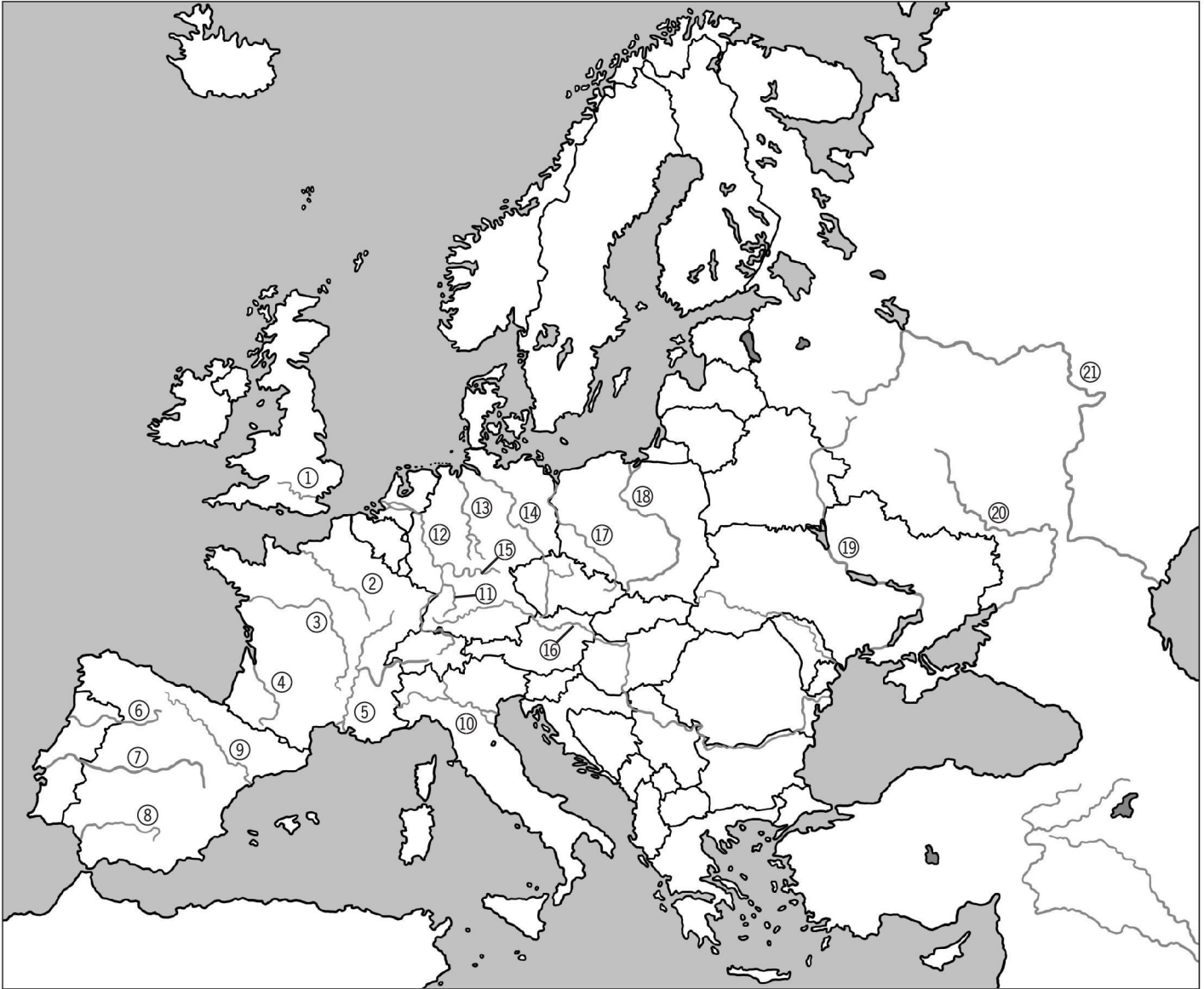
Name:

Datum:



Die größten Flüsse Europas

In Europa gibt es viele Flüsse. Sie entspringen größtenteils in Gebirgen, zum Beispiel in den Alpen, den Pyrenäen oder anderen Mittelgebirgen. Die Flüsse Europas sind nicht so lang wie die anderer Kontinente, zum Beispiel Afrikas. Trotzdem sind sie sehr wichtig sowohl für die Wasserversorgung als auch als Transportwege für Schiffe.



Nimm einen Atlas zu Hilfe.

1. Trage die Namen der Flüsse (1–21) richtig in die Tabelle ein (Arbeitsblatt 12b).
2. Finde zusätzlich heraus, in welches Meer (oder größeren Fluss) die Flüsse münden und in welchem Land sie hauptsächlich fließen.

Name:

Datum:

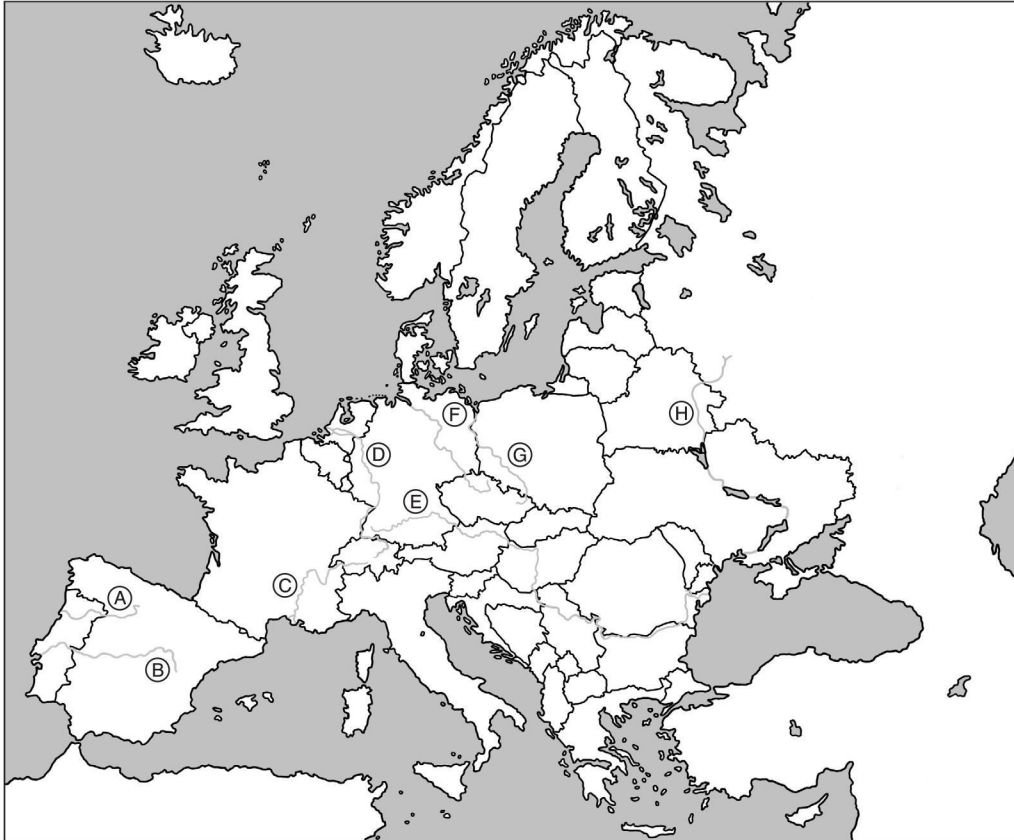


Die größten Flüsse Europas

	Flussname	mündet in den/das	fließt hauptsächlich durch
1			
2			
3			
4			
5			
6			
7			
8			
9			
10			
11			
12			
13			
14			
15			
16			
17			
18			
19			
20			
21			

Name:	Datum:	
Grenzüberschreitende Flüsse in Europa		

Es gibt viele Flüsse in Europa, die nicht nur durch ein Land fließen. Die Donau entspringt zum Beispiel in Deutschland. Zehn europäische Länder haben einen Anteil an der Donau, bevor sie schließlich in das Schwarze Meer mündet.



Nimm einen Atlas zu Hilfe.

Aufgabe: Finde heraus, durch welche Länder die angegebenen Flüsse (A–H) fließen.

	Name des Flusses	fließt durch oder grenzt an folgende Länder
A		
B		
C		
D		
E		
F		
G		
H		

Zusatzaufgabe:

Markiere das Land, in dem der Fluss entspringt, ROT und das, in dem die Mündung liegt, BLAU.

Name:

Datum:



Wichtige Sprachen in Europa

Es gibt viele Länder und Sprachen in Europa. Manche Sprachen, wie zum Beispiel Deutsch, werden in mehreren Ländern als offizielle Landessprache gesprochen.

Aufgabe: Nimm die Länderinfokarten zu Hilfe oder informiere dich im Internet darüber, in welchen Ländern die folgenden Sprachen offiziell gesprochen werden.

Deutsch · Englisch · Französisch · Italienisch · Russisch



Deutsch	Englisch	Französisch	Italienisch	Russisch

Name:

Datum:



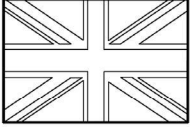
Die Flaggen Europas

1. Male die Flaggen richtig aus.


Tipp: Nimm die Länderinfokarten, einen Atlas oder Abbildungen aus dem Internet zu Hilfe.

2. Verbinde die Flaggen mit den entsprechenden Ländern auf der Karte.

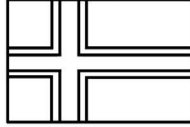
Großbritannien



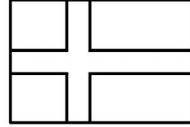
Deutschland



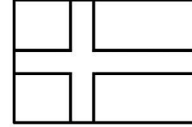
Norwegen




Schweden



Finnland




Russland




Irland



Niederlande



Belgien



Frankreich




Portugal




Spanien




Schweiz



Österreich



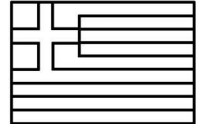
Ungarn




Italien




Griechenland




Polen




Ukraine




Rumänien



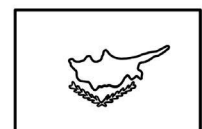
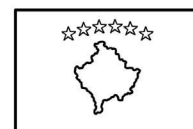
Serbien



Bulgarien



3. Beschreibe, welche Besonderheit du bei den Flaggen des Kosovo und Zyperns erkennen kannst.



Name:	Datum:	
Internationale Autokennzeichen in Europa		

Sicherlich ist dir schon aufgefallen, dass die meisten Autos, die in Deutschland zugelassen sind, am Heck einen weißen Aufkleber haben, auf dem ein großes „D“ zu sehen ist.


Das „D“ steht für _____. Jedes Land auf der Welt hat eine eigene Abkürzung. Diese besteht aus ein, zwei oder auch drei Buchstaben. Bei den „EU-Autokennzeichen“ ist die Länderkennung im linken Bereich des Kennzeichens eingetragen.



Aufgabe: Finde heraus, aus welchen Ländern die Autos kommen.

Tipp: Nimm die Länderinfokarten zu Hilfe oder informiere dich im Internet.

Aufgepasst! Manche Buchstaben stimmen nicht unbedingt mit dem dir bekannten Namen des Landes überein!




Zusatzaufgabe: Kennst du weitere Autokennzeichen aus Europa? Schreibe sie auf.

Name:	Datum:	
Automarken aus Europa		

Jeden Tag siehst du auf dem Weg zur Schule Autos, Busse und Lastwagen von ganz verschiedenen Automarken. Die meisten dieser Automarken kennst du sicherlich. Aber weißt du auch, aus welchen Ländern die Automarken stammen?

1. Verbinde die Namen der bekanntesten europäischen Automarken mit den Herkunftsländern.
2. Was fällt dir auf, wenn du die Automarken mit den entsprechenden Ländern verbunden hast?

Rover	Rolls Royce	Jaguar	Saab	Volvo
VW				Lada
Porsche				Skoda
Mercedes-Benz				Dacia
BMW				Alfa Romeo
Opel				Fiat
Audi				Ferrari
Seat	Renault	Peugeot	Citroën	Lancia

3. Schreibe die Herkunftsländer der Automarken auf.
Beginne mit dem Land, das die meisten Automarken hat.

Zusatzaufgabe: Suche im Internet nach den Logos der Automarken und klebe sie auf.

Übrigens: Die Marke FORD ist ursprünglich eine amerikanische Automarke!

Name:	Datum:	
Post aus Europa		


In der Ferienzeit haben die Postboten immer alle Hände voll zu tun. Dann haben sie zusätzlich zur normalen Post viele Urlaubspostkarten auszutragen, die aus dem Ausland kommen. Vielleicht hast du auch schon Post aus dem Ausland bekommen oder verschickt und kannst die folgenden Briefmarken den richtigen Ländern zuordnen.

Aufgabe: Finde heraus, aus welchen Ländern die Briefmarken kommen.



Name:	Datum:	
Industrie in Europa		

Europa ist ein Kontinent mit zahlreichen Industriezweigen. In deinem Atlas gibt es spezielle Karten, die dir zeigen, welche Industriezweige es in einem Land oder einer Region gibt. Dafür werden in der Karte verschiedene Symbole benutzt.



Nimm einen Atlas zu Hilfe.

- 1. Finde heraus, welche Symbole in deinem Atlas für die angegebenen Industriezweige verwendet werden. Male sie in die vorgegebenen Felder.**

Automobil		Chemie	
Elektro	Maschinenbau	Erdölverarbeitung	
Textil		Schiffbau	

- 2. Schau dir deine Atlaskarte nun noch einmal genau an. Versuche, die folgenden Fragen zu beantworten.**

- Welche Industriezweige gibt es in Deutschland?
- Wie sieht es mit der Industrie in den kleinsten Ländern Europas aus?
- In welchen Ländern gibt es Schiffbau und eine Automobilindustrie?
- Welche Länder haben viele unterschiedliche Industriezweige?



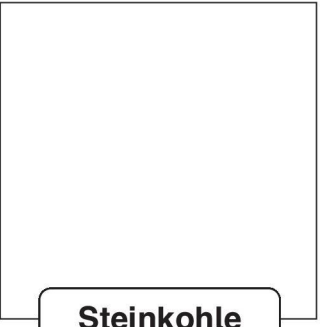
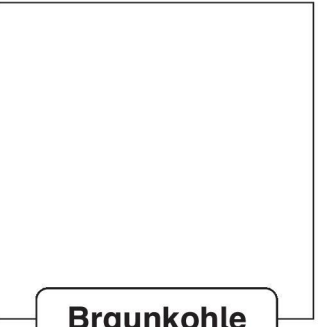
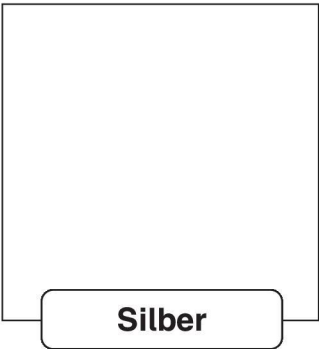
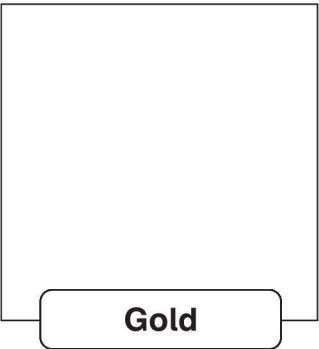
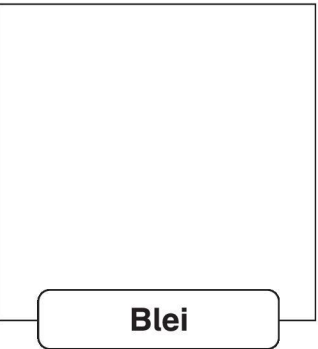
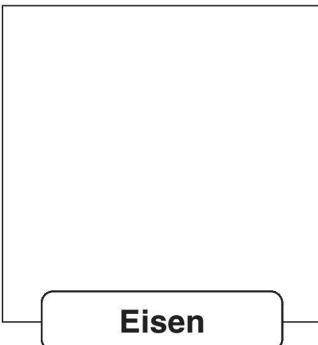
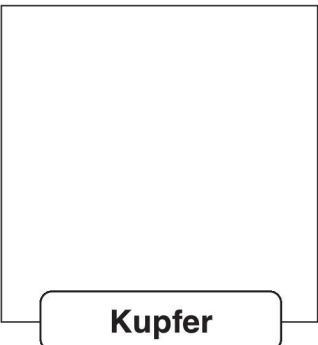
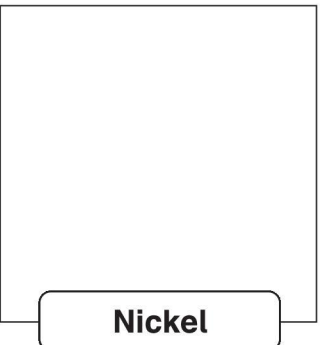
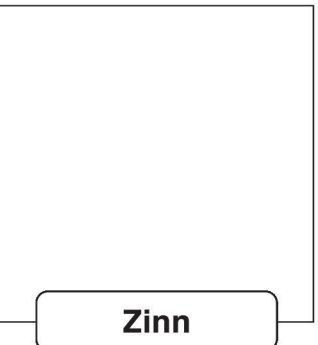
Name:	Datum:	
Rohstoffvorkommen in Europa		

Europa ist im Vergleich zu manchen anderen Kontinenten nicht besonders reich an Rohstoffvorkommen. Ein Beispiel: In Deutschland gibt es zwar ausreichend große Vorkommen an Braunkohle und Steinkohle. Wertvolle Metalle oder Erdöl gibt es bei uns hingegen nur in sehr geringen Mengen. In deinem Atlas gibt es spezielle Karten, die dir zeigen, welche Rohstoffvorkommen es in einem Land oder einer Region gibt. Dafür werden in der Karte verschiedene Symbole benutzt.



Nimm einen Atlas zu Hilfe.

- 1. Finde heraus, welche Symbole in deinem Atlas für die angegebenen Rohstoffvorkommen verwendet werden. Male sie in die vorgegebenen Felder.**

			
Erdgas	Erdöl	Steinkohle	Braunkohle
			
Silber	Gold	Blei	
			
Eisen	Kupfer	Nickel	Zinn

- 2. Schau dir deine Atlaskarte nun noch einmal genau an. Versuche, die folgenden Fragen zu beantworten.**

- Welche Rohstoffvorkommen gibt es in Deutschland?
- Wie sieht es mit Rohstoffvorkommen in den kleinsten Ländern Europas aus?
- Welche Länder sind „reich“ an verschiedenen Rohstoffvorkommen?